

Gratis oefenblaadjes voor groep 7

Uit:

OEFENBOEK VOOR DE CITOTOETSEN



VERSIE 3.0

OPGAVEN VOOR M7, E7 & ENTREETOETS 7

BEGRIPEND LEZEN & INFORMATIE OPZOEKEN


REKENEN

TAALVERZORGING

GRAMMATICA | LEESTEREN

SCHRIJVEN VAN TEKSTEN | SPELLING | WERKWOORDEN

WOORDENSCHAT



citotrainer nederland

Oefenblaadjes Rekenen groep 7

Deze gratis pdf bevat opdrachten voor kinderen die al enige tijd in groep 7 zitten. De opdrachten komen uit een (papieren) boek, dat u via deze link kunt bestellen:

<https://www.citotrainernederland.nl/a-51641555/citotoetsen-groep-7-en-8/oefenboek-voor-de-citotoetsen-in-groep-7-versie-3-0-papieren-versie/#description>



Scan de QR-code om het oefenboek te bestellen
of oefen online gratis verder op
<https://leestrainer.nl/Leerlijn%20Rekenen/groep/78.htm> !



Citotrainer Nederland, alle rechten voorbehouden.

Deze 11 pagina's morgen (in tegenstelling tot het Oefenboek voor de Citotoetsen in groep 7 - Versie 3.0) zowel digitaal als op papier vrij worden verspreid, maar alleen in de originele vorm.





Rekenen

Opgave 1

Tijd	Station
18.07	Groningen Noord
18.16	Groningen
19.21	Zwolle
19.49	Harderwijk

Lisa reist van Groningen Noord naar Zwolle.

Hoelang duurt de reis?

- A. 14 minuten
- B. 46 minuten
- C. 1 uur en 14 minuten
- D. 1 uur en 46 minuten

Opgave 2

31 munten van 50 cent is evenveel als

- A. € 15,50
- B. € 16,50
- C. € 30,50
- D. € 31,50





Opgave 3


In de maand juli heeft de familie Struik bijgehouden waar ze haar geld aan heeft uitgegeven.

Waar is $\frac{1}{4}$ deel van het geld aan besteed?

- A. eten
- B. vakantie
- C. kleding
- D. uitgaan



Opgave 4



Kiara heeft de vensterbank op schaal nagetekend.

Welke lengtemaat moet op de plaats van het vraagteken staan?

- A. mm
- B. cm
- C. dm
- D. m





Opgave 5

Gijs wil trakteren op plakken worst. Hij heeft gemeten dat 1 plak worst ongeveer 50 g weegt.

Bij de slager ziet hij een flink stuk worst van 1 kg liggen.

Hoeveel kinderen kan hij hiermee ongeveer trakteren?

- A. 10
- B. 20
- C. 30
- D. 40

Opgave 6

Steeds 25 eraf.

Wat moet er op de plaats van de puntjes staan?

20.875 – 20.850 – 20.825 - ...

- A. 19.975
- B. 20.500
- C. 20.750
- D. 20.800

Opgave 7

Jerry vult flesjes van 125 ml uit een volle tank van 6 l.

Hoeveel flesjes kan hij vullen?

- A. 21
- B. 22
- C. 42
- D. 48





Opgave 8

$$349,87 : 4,92 =$$

Wat is de beste schatting?

- A. 70
- B. 80
- C. 90
- D. 110

Opgave 9

Een geitenstal is 200 m lang en 40 m breed.

Hoeveel vierkante meter is de geitenstal?

- A. 240 m²
- B. 480 m²
- C. 800 m²
- D. 8000 m²



Opgave 10

7 kwartier is minuten

- A. 95
- B. 105
- C. 125
- D. 175





Opgave 11

$$4.214 - 2.737 = \dots$$

- A. 1.477
- B. 2.523
- C. 1.523
- D. 2.477

Opgave 12

Rond het getal 286 af op een tiental.

- A. 200
- B. 280
- C. 290
- D. 300

Opgave 13

Meneer De Vries reist van Rotterdam naar Nijverdal.

Vertrek: 11.47 uur

Aankomst: 14.15 uur

Hoe lang duurt de reis?

- A. 2 uur en 28 minuten
- B. 3 uur en 32 minuten
- C. 3 uur en 52 minuten
- D. 4 uur en 2 minuten





Opgave 14

Vandaag 25% korting op alle artikelen!

Tarik koopt een trui, die normaal € 80,- kost.

Hoeveel korting krijgt hij?

- A. € 16,-
- B. € 20,-
- C. € 60,-
- D. € 64,-



SALE

Opgave 15

Hoe schrijf je anderhalf duizend in cijfers?

- A. 150
- B. 1.500
- C. 1.550
- D. 15.000

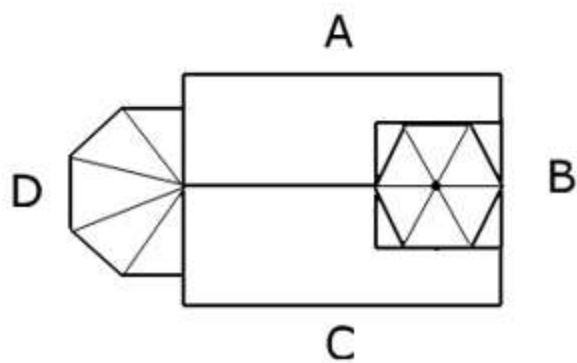




Opgave 16

Sanne staat naast de kerk. Ze maakt er een foto van.

Van welke kant heeft ze de foto gemaakt?





Opgave 17

Van de 15 flessen in een krat zijn er 5 wit.

Welk deel van de flessen is dat?

- A. 1/20 deel
- B. 1/10 deel
- C. 1/5 deel
- D. 1/3 deel



Opgave 18

Karin maakt pasta voor 6 personen.

Hoeveel gram spaghetti heeft ze nodig?

- A. 400 g
- B. 500 g
- C. 600 g
- D. 800 g

Pasta met romige bloemkoolsaus

Nodig voor 4 personen:

- 400 gram spaghetti
- 1 bloemkool
- 1 teentje knoflook
- 2 kleine rode uien
- Een handje pijnboompitten
- Een scheut olijfolie
- Een snuf peper en zout

Bereiding

Verwarm de oven voor op 180 gr ...



Opgave 19

1 liter = 3 dl + ... cl

- A. 7
- B. 70
- C. 700
- D. 7.000





Opgave 20

In deze plastic doos staan nu 12 blikken hondenvoer.

De doos moet helemaal vol.

Hoeveel blikken gaan er in totaal in een volle doos?



- A. 15
- B. 24
- C. 40
- D. 48

