



OEFENBLAADJES

GRATIS

DOOR STROOM TOETS

GROEP 8



WWW.DOORSTROOMTOETS.ONLINE

Oefenblaadjes Doorstroomtoets groep8



© 2023 Citotrainer Nederland, alle rechten voorbehouden.

Deze oefenblaadjes mogen (in tegenstelling tot de oefenboeken voor de doorstroomtoets) zowel digitaal als op papier vrij worden verspreid, maar alleen in de originele vorm.

www.doorstroomtoets.online



Rekenen

1. Meester Rob onderzoekt 40 fietsen waarmee zijn groep op kamp gaat. Aan $\frac{2}{5}$ deel van de fietsen mankeert iets.

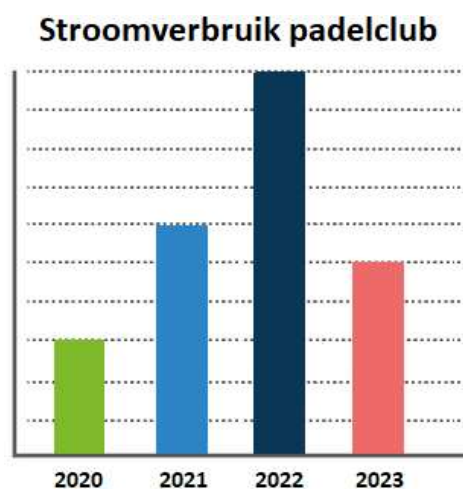
Aan hoeveel fietsen mankeert iets?

- A 24
- B 20
- C 16
- D 12

2. 4 jaar lang is het jaarlijkse stroomverbruik van een padelclub gemeten. De resultaten zijn in een diagram gezet.

In welk jaar is het stroomverbruik gehalveerd ten opzichte van het jaar ervoor?

- A 2020
- B 2021
- C 2022
- D 2023



3. Jamila zet een pak suiker op de digitale weegschaal. Ze leest 1,012 kg af.

Dat is 1 kg en

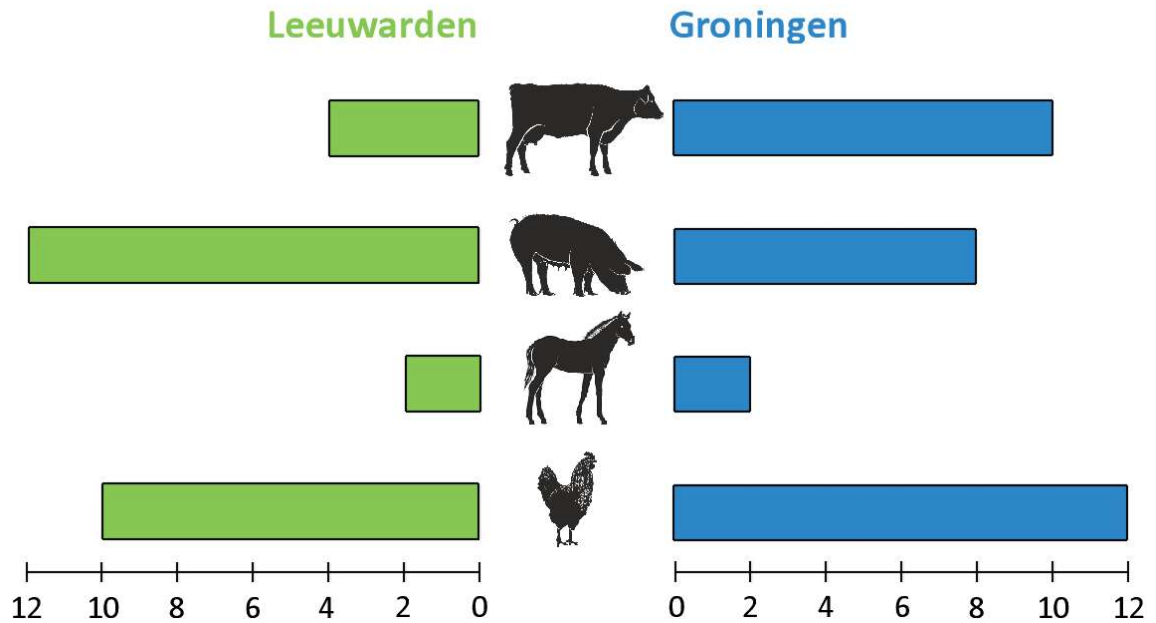
- A 12 hg
- B 12 dag
- C 12 g
- D 12 dg





4.

Welk soort vlees eet je het vaakst? Aantal mensen



Aan een aantal mensen uit Groningen en Leeuwarden is gevraagd welk soort vlees ze het vaakst eten.

Ongeveer hoeveel procent van alle ondervraagde mensen eet het vaakst varkensvlees?

- A 50%
- B 33%
- C 20%
- D 10%

5. Bram koopt 9 koeken voor € 2,70. Dex koopt 6 koeken.

Hoeveel moet Dex betalen? _____



6. Op de klok zie je hoe laat het nu is. Om 19.30 uur begint de film.



Over hoeveel minuten is dat?

- A 35 minuten
B 105 minuten
C 135 minuten
D 95 minuten
7. $1,1 + 0,11 =$ _____

8. Wessel drukt het deeg voor een platte appelcake plat op een bakplaat van 50 bij 40 cm.

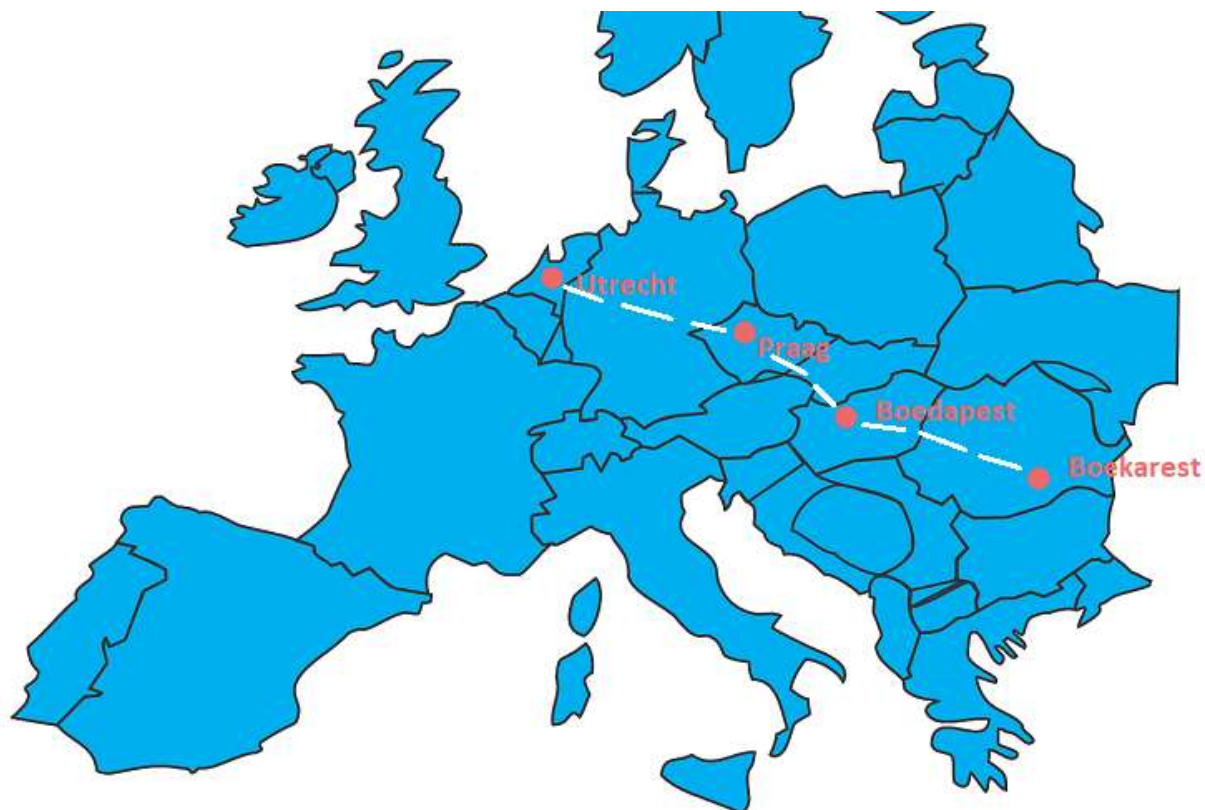
Hoeveel g boter zit er in 1 cm^2 platte appelcake?

- A 0,1 g
B 1 g
C 10 g
D 100 g
9. $12\ 000 - 358 =$ _____





10.



Op de kaart kun je zien hoe de familie Stoica van Utrecht naar Boekarest reist. De hele reis is ongeveer 2200 km.

Eerst rijdt de familie 862 km naar Praag en dan 518 km naar Boedapest.

Ongeveer hoeveel kilometer moet de familie dan nog rijden van Boedapest naar Boekarest?

- A 500 km
- B 700 km
- C 800 km
- D 900 km



Taal

De opgaven 1 tot en met 4 gaan over begrijpend lezen. Lees eerst de tekst, beantwoord dan de vragen.

Bijzonder

Wow, ik heb zoiets speciaals meegemaakt, dat ik het graag met jullie deel! Gisteren, op Tweede Paasdag 2023, heb ik in BestZoo een jonkie van een wombat gezien. Hij keek vanuit de buidel van zijn moeder ook naar mij. Nu ben ik een echte dierengeek en ik vond het dus superschattig, maar misschien wil jij weten waarom dit zo bijzonder was.

Ten eerste is het heel apart dat een Nederlandse dierentuin wombats houdt. De dieren komen in de natuur alleen voor in bossen en bergachtige gebieden in Zuid-Australië en de Australische overheid laat ze niet zomaar het land uit gaan. Twee jaar geleden is het BestZOO toch gelukt om een paar wombats naar Nederland te halen.

Ten tweede is de geboorte van een wombatjong een primeur: nooit eerder is er in een Nederlandse dierentuin een wombatjong geboren. Ik vind het echt zó chill dat ik het jonkie met eigen ogen heb gezien!

Ten derde is het een gelukje geweest, dat het jonkie zijn kopje uit moeders buidel stak, toen ik naar de moeder keek. Van een medewerker van BestZOO heb ik begrepen dat jonge wombats zich zelden laten zien.

Begrijp je nu, waarom ik zo blij ben? Ik ben nu alleen nog benieuwd naar zijn naam.





1. Wat is een wombat voor een soort dier?
 - A een primate
 - B een buideldier
 - C een haasachtige
 - D een hoefdier

2. De schrijver vindt het bijzonder, dat hij in BestZOO een wombatjong zag.
Hoeveel redenen geeft hij hiervoor?
 - A één
 - B twee
 - C drie
 - D vier

3. Wat is een *primeur*?
 - A iets wat zelden voorkomt
 - B een mazzeltje
 - C iets wat dik in orde is
 - D de eerste keer dat iets gebeurt

4. Waarom klopt de afbeelding niet helemaal bij de tekst?
 - A Het jonkie zat volgens de schrijver in de buidel.
 - B De afbeelding toont geen bos.
 - C Een jonge wombat laat zich nooit zien.
 - D Wombats komen in Nederland niet voor.



De opgaven 5 tot en met 7 gaan over grammatica.

5. Welk van de onderstreepte woorden is een zelfstandig naamwoord?

Het hele feestje is helaas in de soep gelopen..

- A hele
- B is
- C de
- D soep

6. Welk van de onderstreepte woorden is een voorzetsel?

Van en naar Haarlem rijden vandaag geen treinen.

- A van
- B Haarlem
- C vandaag
- D treinen

7. Wat is het onderwerp in deze zin?

Hoe laat wordt het zware pakket waarschijnlijk bezorgd?

- A hoe laat
- B wordt
- C het zware pakket
- D wordt bezorgd




De opgaven 8 tot en met 10 gaan over leestekens.

8. staan blijven riep mevrouw buis maar zoraya ging er als een haas vandoor.

Achter welk onderstreept woord moet een komma (,) worden gezet?

- A blijven
- B buis
- C maar
- D haas



9. mammoeten leefden in de ijstijd mogelijk zijn ze door klimaatverandering uitgestorven

Welk onderstreept woord moet met een hoofdletter worden geschreven?

- A ijstijd
- B mogelijk
- C klimaatverandering
- D uitgestorven

10. de kinderen in groep 8 zetten hun tafels op de gang is dat wel de bedoeling

Welk leesteken moet er achter het onderstreepte woord worden gezet?

- A een komma (,)
- B een punt (.)
- C een uitroepeteken (!)
- D een vraagteken (?)



De opgaven 11 tot en met 13 gaan over spelling.

11. Kijk naar het plaatje.

Vul de **ontbrekende letter(s)** in.

De soldaat landde veilig met een para_____ute.



12. Vul het verkleinwoord in.

kano _____

13. Maak er een bijvoeglijk naamwoord van.

porselein de _____ vaas



De opgaven 14 tot en met 16 gaan over werkwoorden.

14. Vul de goede vorm in van het woord tussen haakjes. Gebruik de tegenwoordige tijd.

_____ je dat een leuk klusje? (vinden)

15. Vul de goede vorm in van het woord tussen haakjes. Gebruik de voltooid tijd.

Kijk even of het vuur al _____ is. (doven)

16. In welke zin zijn beide dikgedrukte woorden goed gespeld?

- A Het **verandert** niet, als er niet voor gewerkt **word**.
- B Het **verandert** niet, als er niet voor gewerkt **wordt**.
- C Het **veranderd** niet, als er niet voor gewerkt **word**.
- D Het **veranderd** niet, als er niet voor gewerkt **wordt**.



Antwoorden

Rekenen

1. C
2. D
3. C
4. B (20 van de 60 = $1/3 \approx 33\%$)
5. € 1,80
6. D
7. 1,21
8. A
9. 11 642
10. C

Taal

1. B
2. C (in de tekst zie je de signaalwoorden: ten eerste, ten tweede, ten derde)
3. D
4. A
5. D
6. A
7. C
8. B
9. B
10. D
11. ch
12. kanoetje
13. porseleinen
14. Vind (het gaat hier *niet* om de hoofdletter)
15. gedooft
16. B

Kijk op
www.citotrainernederland.nl
voor oefenboeken voor de
doorstroomtoets of oefen online
gratis verder op
www.doorstroomtoets.online !



Image by Dooder on Freepik.com