

GRATIS OEFENBLAADJES

Rekenen groep 6



Uit het 'Oefenboek Cito- en IEP-toets REKENEN groep 6'

Oefenblaadjes Rekenen groep 6

Deze gratis pdf bevat opdrachten voor de maand september. De opdrachten komen uit een (papieren) boek, waarin voor september t/m juni opdrachten staan. Natuurlijk worden de opdrachten langzaamaan moeilijker. Zo kun je voor alle rekenonderdelen goed zien waar je al goed in bent en wat je extra moet oefenen.

Link naar het oefenboek: www.citotrainernederland.nl/a-74315859/rekenen/oefenboek-cito-en-iep-toets-rekenen-groep-6/#description



Scan de QR-code om het oefenboek te bestellen of oefen online gratis verder op <https://leestrainer.nl/toets6/overzicht.htm>!



Citotrainer Nederland, alle rechten voorbehouden.

Deze 7 pagina's morgen (in tegenstelling tot het Oefenboek Cito- en IEP-toets REKENEN groep 6) zowel digitaal als op papier vrij worden verspreid, maar alleen in de originele vorm.

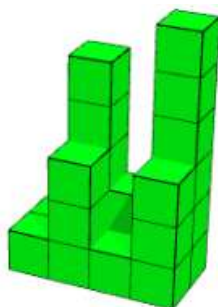




September

- 1 Tentoonstelling: van 16 tot en met 24 september.
Hoelang duurt de tentoonstelling?

- 2 Welke plattegrond past bij het bouwsel?
Kleur het juiste rondje.



1	4	2	6
1	3	1	3



1	5	2	6
1	3	1	3



1	4	2	5
1	3	1	3

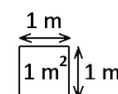
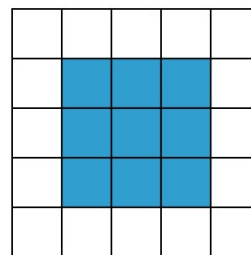


- 3 In het getal 6085 zitten _____ duizendtallen.





4 Wat is de omtrek van het blauwe figuur?



5 10 pennen kosten € 3,- .
Hoeveel kost 1 pen?

6 Op welke dag valt 15 oktober?

september					
ma	28	4	11	18	25
di	29	5	12	19	26
wo	30	6	13	20	27
do	31	7	14	21	28
vr	1	8	15	22	29
za	2	9	16	23	30
zo	3	10	17	24	1

7 $1400 - 700 =$ _____





8 $697 + 204 \approx$

Kleur het juiste rondje.

1000 **900** **800**



- 9 De klok geeft aan hoe laat het nu is.
Hoe laat is het over een halfuur?
Schrijf je antwoord in letters.



- 10 In een magazijn liggen 460 boeken.
Er worden 38 boeken verkocht.
Hoeveel boeken liggen er dan nog?

- 11 In een netje zitten 15 mandarijnen.
Suquan koopt 4 netjes.
Hoeveel mandarijnen zijn dat?







- 12 Hans weegt de zak appels die hij koopt.
De zak weegt 3900 g.

Dat is bijna _____ kg.

- 13 Linda koopt een nieuwe fiets van € 618,- en een tweedehandsfiets van € 194,-.
Hoeveel moet ze ongeveer betalen?
Rond af op een honderdtal.

- 14 Wat is in het echt ongeveer 1 cm?
Kleur het juiste rondje.



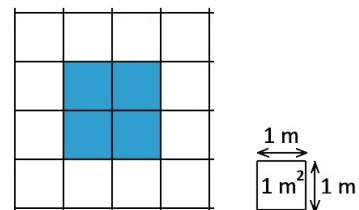
- 15 $270 + 90 =$ _____





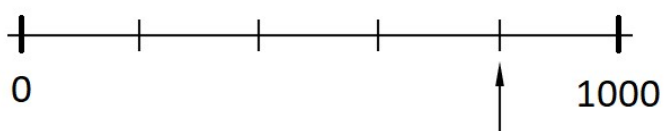
16 Welk getal ligt precies tussen 1000 en 2000?

17 Wat is de oppervlakte van het blauwe figuur?



18 $125 + 175 + 150 =$ _____

19 Welk getal moet bij de pijl staan?



20 $31 : 8 =$ _____ rest _____

